

DR. İNANÇ YAŞAYAN

IQ
TESTİ

DİJİTAL e-KÜTÜPHANE

isev.org.tr



IQ TESTİ

Aşağıdaki 20 soruluk testi 20 dakikada çözdükten sonra, cevaplardan doğru cevaplarınızı bulup en son bölümdeki değerlendirmelerden zeka seviyenizi öğrenebilirsiniz.

Başarılar...

1. 400 sayısının, $\frac{1}{5}$ 'inin, $\frac{1}{4}$ 'ünün 3 katı kaç eder?

- a. 80
- b. 60
- c. 40
- d. 50

2. Aşağıdaki sayı serisini hangi sayı izler?

3, 9, 6, 18, 15, 45, 42, ?

3. Elimdeki çiçeklerin ikisi hariç hepsi papatya, ikisi hariç hepsi gül ve ikisi hariç hepsi karanfil olduğuna göre elimde hangi çiçekten kaç tane bulunmaktadır?

- a. 2 tane gül, 1 tane papatya, 3 tane karanfil
- b. 1 tane gül, 1 tane papatya, 1 tane karanfil
- c. 1 tane gül, 2 tane papatya, 2 tane karanfil
- d. 1 tane gül, 1 tane papatya, 2 tane karanfil

4. Cihan, kardeşinden 9 yaş büyüktür. Cihan'ın yaşı, kardeşinin yaşının iki katı olduğunda Cihan kaç yaşındaydı?

5. Mehmet, bulunduğu noktadan 2 blok kuzeye, sonra 2 blok doğuya, sonra 3 blok güneye ve son olarak 2 blok batıya yürüyor. Mehmet, çıkış noktasından kaç blok mesafede bulunmaktadır?

- a. 1 blok
- b. 2 blok
- c. 3 blok
- d. 4 blok

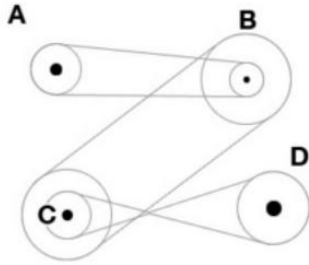
6. Ali'nin misketlerinin sayısı, Can'ın misket sayısının 4 katı ve Berna'nın misket sayısının 2 katıdır. Hepsinin toplam 126 misketi vardır. Berna'nın kaç misketi vardır?

7. Altı yüzlü standart bir zarda, karşılıklı yüzeylerdeki nokta sayılarının toplamı her zaman aynı sayıya eşittir. Buna göre 3 sayısının olduğu yüzeyin karşı yüzeyinde hangi sayı bulunur?

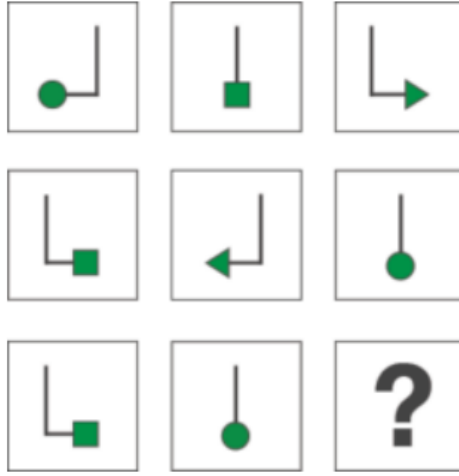


- a. 1
- b. 2
- c. 4
- d. 5

8. Aşağıdaki şekle göre hangi teker en hızlı dönmektedir?



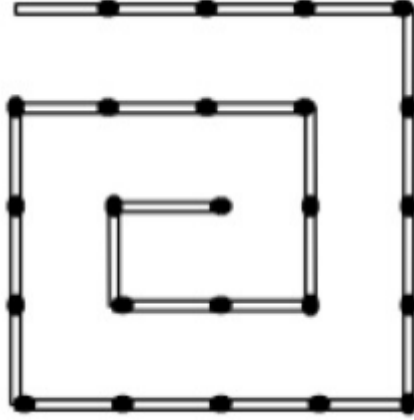
9. Aşağıdaki dizilime göre hangi şekil kareyi aynı şekilde tamamlar?



10. Bir kitap kurdu çok acıkmıştı. Karnını doyurmak için kitaplığa çıktı. Raftaki beş ciltlik bir ansiklopedinin birinci cildinin ön kapağından başlayıp beşinci cildin arka kapağına kadar kemirdi. Her cilt 3 cm kalınlıkta olduğuna göre, kitap kurdu ne kadar ilerlemiştir?

11. Bir tenis topunu olası en uzak noktaya fırlatıyoruz. Top, hiç kimse yakalamamasına ve hiçbir yere çarpmamasına rağmen bize geri dönüyor. Topa başka herhangi bir madde de iliştilmediğine göre de bu nasıl olur?

12. Aşağıdaki kibritlerden yapılmış helezonu 4 kibritin yerini değiştirerek 3 kare haline getiriniz.




13. Türkiye’de olan iki ilin harfleri aynıdır. Sizce bunlar hangileridir?

14. Bir bahçıvan; 7 gülü, her biri 3 gül içeren 6 sıra şeklinde dikti. Acaba bunu nasıl yaptı? Sonra 10 gülü her biri 4 güllük 5 sıraya dikti. Bunu nasıl yaptı?

15. Çok yağmurlu bir günde, gece küçük iki kişilik arabanızla yola devam ediyorsunuz. Yolda bir kulübenin içinde 3 kişi var ve sizi durduruyorlar. Biri çok ağır hasta ve hastaneye gitmesi gerekiyor. İkincisi bir doktor ama tesadüf ki geçen sene sizi ölümden kurtaran bir doktor; yani ona minnet borcu hissediyorsunuz. Üçüncüsü de hayallerinizin erkeği/kadını ve aniden âşık oluyorsunuz. Bu durumda davranışınız ne olur? Nasıl bir mantıkla davranırsınız?

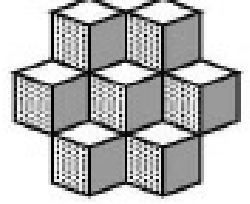
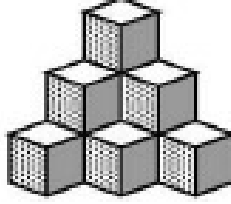
16. Aşağıdaki satranç tahtasında siyah atların yerine beyaz atları getirmek için en az kaç hamle yapmak gerekir?



17. Topkapı'ya giderken yolda yedi karısı olan bir adamla tanıştım. Her kadın, yedi çanta taşıyordu. Her çantada da yedi kedi vardı. Her kedinin de yedi yavrusu vardı. Kedi yavruları, kediler, çantalar, kadınlar toplam kaç kişi Topkapı'ya gidiyordur?

18. Aşağıda, solda 6, sağda 7 küp var, fakat bunlar yalnız görünen küpler. Acaba bu görünen küplerin arkasında saklanmış kaç küp olabilir?

(Problemi çözerken şu iki noktaya dikkat edin: Her iki grupta da küpler üç kat olarak dizilmiştir ve görünen küpler kendi arkalarında bulunan küpleri tamamen gizlemektedir.)



19. 3 adam bir otele gider ve her biri 10 lira vererek toplam 30 lira ödeyerek oda tutarlar ve eşyalarını alıp odalarına çıkarlar. Fakat otel müdürü bugünün Çarşamba olduğunu hatırlar ve özel bir fiyat uygular. Bellboy’u çağırır ve fazladan kestiği 5 lirayı 3 adama vermelerini ister. Bellboy, adamların odasına çıkar ve 5 lirayı geri verir. Bunun üzerine adamlar 2 lirayı bahşış olarak Bellboy’a verir, geri kalan 3 lirayı paylaşırlar. Bu durumda adamların otel için ödedikleri miktar 9 liradır (daha evvel 10 lira vermişlerdi sonra da 1 lira geri paylaştılar). Sonuçta toplam ödedikleri miktar $3 \times 9 = 27$ liradır. 2 lira da Bellboy’a bahşış vermişlerdi ve sonuçta harcadıkları toplam miktar; $27 + 2 = 29$ liradır. Fakat otele girerken verdikleri para 30 lira idi. O halde 1 lira nereye gitti?

20. 23 halkalık bir zinciriniz var. Bazı halkaları açarak zincir parçaları yaratmanız ve bu zincir parçalarındaki halka sayılarını uygun biçimde toplayarak 1'den 23'e kadar bütün sayıları elde etmeniz isteniyor. Bunun için kaç halka açmalısınız?



CEVAP ANAHTARI

1-b (Doğru cevap 60'tır)

2- Doğru cevap 126'dır.

Seri şu şekilde oluşturulmuştur *3, -3, *3, -3, *3, -

3, vs.

Demek ki;

$$3 * 3 = 9$$

$$9 - 3 = 6$$

$$6 * 3 = 18$$

$$18 - 3 = 15$$

$$15 * 3 = 45$$

$$45 - 3 = 42$$

$$42 * 3 = ? 126$$

3- b şıkkı doğrudur: 1 tane gül, 1 tane papatya, 1 tane karanfil

4- Cihan, kardeşinden 9 yaş büyüktür.

$$C = K + 9$$

$$C = 2 * K$$

$$2 * K = K + 9$$

$$K = 9$$

K 9 yaşındayken, Cihan 18 yaşındaydı.

5- a. 1 blok

6- CAN = x ALİ = 4x BERNA = 2x x + 4x + 2x =
126 ve x = 18

Demek ki Berna'nın $2 * 18 = 36$ misketi vardır.

7- c. 4

8- C ile B

Teker C ve B aynı boyutta olan dış kısımları ile birbirine bağlıdır. Bu yüzden ikisi de aynı hızda dönmektedir.

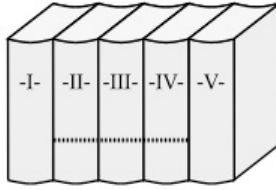
Teker D, teker C'nin daha küçük olan iç kısmına bağlıdır ve bu nedenle daha yavaş dönmektedir.

Ayrıca teker A da teker B'nin daha küçük olan iç kısmına bağlıdır ve bu nedenle daha yavaş döner.

9- Her bir sıra bir daire, bir kare ve bir ok işareti içermektedir. Her bir sıra ayrıca bir sol-açılı çizgi, bir sağ-açılı çizgi ve bir sol çizgi içermektedir. Demek ki söz konusu şekil, şekil 2 olmalıdır.

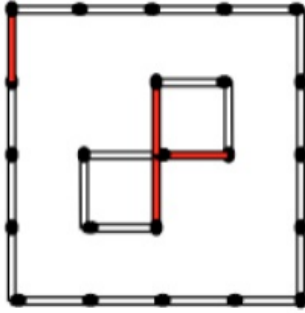


10- Cevap 15 cm değildir. Birinci cildinin ön kapağı ile beşinci cildin arka kapağı arasındaki mesafe, aşağıdaki şekilde noktalı çizgi ile gösterildiği gibidir; yani 9 cm'dir.



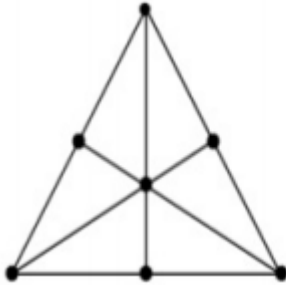
11- Topu yukarıya doğru atarız.

12-



13- Aksaray ve Sakarya

14-

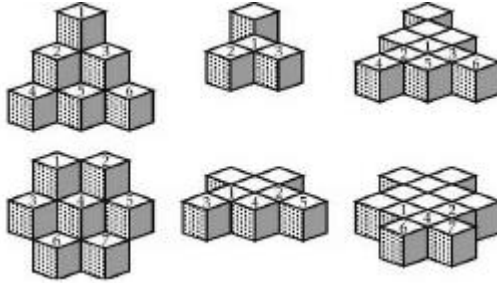


15- Arabamı doktora verirdim hastayı alır giderdi bende hayalimdeki adamla/kadınla kalırdım.

16- 16 hamle gerekir. 4 grup hareket yapılır: Atlar köşelerden orta karelere gelir. Atlar orta karelerden köşelere gider. Atlar yine köşelerden orta karelere gelir. Atlar yine orta karelerden köşelere gider.

17- 1 kişi, o da siz...

18-



Küplerin görünen dış sınırlarının arkasında kalabilecek her küp soruya cevaptır. Bu amaçla küp gruplarının 3, 2 ve 1. katları gösterilmiştir. Küplere

numara verilmiştir; aynı sayıyı taşıyan küpler üst üste gelecektir.

19- Yanlışlık, hesapta yapılan yönlendirmeden kaynaklanıyor. Yani Bellboy'a verilen 2 lira aslında 27 liranın içindedir. Adamlarımız 3 lira daha alınca, toplam 30 lira olmaktadır.

20- İki halka açarak (4. ve 11. halkalar) şu zincir parçalarını oluşturursunuz:

3-1- 6-1-12.

Bunlarla 1'den 23'e kadar bütün sayılar oluşturulabilir.

IQ DEĞERLENDİRMESİ

Dođru ve yanlış cevap sayılarınızı bir yere not edin. IQ seviyenizi öğrenmek için aşağıdaki tabloyu inceleyin. (Boş bırakılanlar hesaba katılmayacaktır.)

Yanlış	0	1	2	3	4	5	6	7	8	9	10	11	12	13	14	15
Doğru																
20	170															
19	164	162														
18	158	156	154													
17	152	150	148	146												
16	146	144	142	140	138											
15	140	138	136	134	132	130										
14	134	132	130	128	126	124	122									
13	128	126	124	122	120	118	116	114								
12	122	120	118	116	114	112	110	108	106							
11	116	114	112	110	108	106	104	102	100	98						
10	110	108	106	104	102	100	98	96	94	92	90					
9	104	102	100	98	96	94	92	90	88	86	84	82				
8	98	96	94	92	90	88	86	84	82	80	78	76	74			
7	92	90	88	86	84	82	80	78	76	74	72	70	68	66		
6	86	84	82	80	78	76	74	72	70	68	66	64	62	60	58	
5	80	78	76	74	72	70	68	66	64	62	60	58	56	54	52	50
4	74	72	70	68	66	64	62	60	58	56	54	52	50	48	46	44
3	68	66	64	62	60	58	56	54	52	50	48	46	44	42	40	38
2	62	60	58	56	54	52	50	48	46	44	42	40	38	36	34	32
1	56	54	52	50	48	46	44	42	40	38	36	34	32	30	28	26
0	50	48	46	44	42	40	38	36	34	32	30	28	26	24	22	20

Örneğin, 20 sorudan 16 doğrunuz, 2 yanlışınız, 2 boşunuz varsa; boşları hesaba katmamak suretiyle, **16 Doğru, 2 Yanlış** var demektir. Buna göre, aşağıdaki tablodan, kesim noktasında bulunan kutudaki IQ değeri 142'dir.

Yanlış	0	1	2	3	4	5	6	7	8	9	10	11	12	13	14	15
Doğru																
20	170															
19	164	162														
18	158	156	154													
17	152	150	148	146												
16	146	144	142	140	138											
15	140	138	136	134	132	130										
14	134	132	130	128	126	124	122									
13	128	126	124	122	120	118	116	114								
12	122	120	118	116	114	112	110	108	106							
11	116	114	112	110	108	106	104	102	100	98						
10	110	108	106	104	102	100	98	96	94	92	90					
9	104	102	100	98	96	94	92	90	88	86	84	82				
8	98	96	94	92	90	88	86	84	82	80	78	76	74			
7	92	90	88	86	84	82	80	78	76	74	72	70	68	66		
6	86	84	82	80	78	76	74	72	70	68	66	64	62	60	58	
5	80	78	76	74	72	70	68	66	64	62	60	58	56	54	52	50
4	74	72	70	68	66	64	62	60	58	56	54	52	50	48	46	44
3	68	66	64	62	60	58	56	54	52	50	48	46	44	42	40	38
2	62	60	58	56	54	52	50	48	46	44	42	40	38	36	34	32
1	56	54	52	50	48	46	44	42	40	38	36	34	32	30	28	26
0	50	48	46	44	42	40	38	36	34	32	30	28	26	24	22	20

Bilinen IQ dereceleri:

Uzmanların arařtırmalarına göre, aldığınız IQ puanları için genel anlamdaki durumunuz ařağıdaki şekilde olabilir:

0-25 arası: Ağır Gerilik

26-50 arası: Orta Gerilik

51-75 arası: Hafif Gerilik

76-90 arası: Sınır Zekâ

91-110 arası: Normal Zekâ

111-125 arası: İleri Zekâ

126-140 arası: Üstün Zekâ

140-155 arası: Çok Üstün Zekâ

156 ve üzeri: Deha